



## การแข่งขันคณิตศาสตร์ชิงแชมป์ประเทศไทย

วันที่ 6 เมษายน 2560 ณ ห้อง PAVILLION HALL 2 ชั้น 2 ดรีมเวสต์ รังสิต - นครนายก

### ข้อสอบวิชาคณิตศาสตร์ ระดับชั้นประถมศึกษาปีที่ 1

คำสั่ง : เขียนคำตอบที่ถูกต้องลงในกระดาษคำตอบ

จำนวน 40 ข้อ เวลา 15 นาที

1) สมุด 2 โหล มีกี่เล่ม

A. 2 เล่ม

B. 12 เล่ม

C. 4 เล่ม

D. 24 เล่ม

2) แนนกินเค้กมากกว่าเนย หนึ่งกินเค้กมากกว่าหนึ่ง แนนกินเค้กน้อยกว่าหนึ่ง ใครกินเค้กน้อยที่สุด

A. แนน

B. หนึ่ง

C. เนย

D. หนึ่ง

3) ซื้อนม 17 บาท ซื้อขนมปัง 9 บาท จ่ายเงินไป 50 บาท จะได้รับเงินทอนกี่บาท

A. 24 บาท

B. 26 บาท

C. 33 บาท

D. 41 บาท

4) ในหนึ่งสัปดาห์ ฉันไปโรงเรียนวันจันทร์ – วันศุกร์ ฉันได้เงินวันละ 12 บาท ในหนึ่งสัปดาห์ ฉันได้รับเงินไปโรงเรียนทั้งหมดกี่บาท

A. 12 บาท

B. 36 บาท

C. 48 บาท

D. 60 บาท



## การแข่งขันคณิตศาสตร์ชิงแชมป์ประเทศไทย

วันที่ 6 เมษายน 2560 ณ ห้อง PAVILLION HALL 2 ชั้น 2 ดรีมเวสต์ รังสิต - นครนายก

### ข้อสอบวิชาคณิตศาสตร์ ระดับชั้นประถมศึกษาปีที่ 1

- 5) “47” ค่าของเลข 4 และเลข 7 มีค่าต่างกันเท่าไร
- A. 47                      B. 3                      C. 33                      D. 66
- 6) ดินสอสี 1 แท่ง มีสีต่างกัน 2 ด้าน ถ้ามีสีทั้งหมด 14 สี จะมีดินสออย่างน้อยกี่แท่ง
- 7) หนังสือเล่มหนึ่งมี 36 หน้า มินนิคหน้ากระดาษหนังสือไป 6 แผ่น หนังสือจะเหลือหน้าอยู่ที่  
หน้า
- 8)  $2 + 2 + 2 + 2 = \square \times 2$
- 9) จากแบบรูปข้างล่าง จงหาค่าของ  $A + B$
- 4, 11, 18, 25, 32, A, B
- 10) เจนมีส้ม 16 ผล เมื่อแบ่งให้น้องคนละ 4 ผลเท่ากัน ส้มจะหมดพอดี เจนมีน้องกี่คน



## การแข่งขันคณิตศาสตร์ชิงแชมป์ประเทศไทย

วันที่ 6 เมษายน 2560 ณ ห้อง PAVILLION HALL 2 ชั้น 2 ดรีมเวสต์ รัชสิด – นครนายก

### ข้อสอบวิชาคณิตศาสตร์ ระดับชั้นประถมศึกษาปีที่ 1

- 11) น้องดาวตื่นนอนวันละครึ่งขวด น้องดาวมีนมทั้งหมด 4 ขวด น้องดาวจะตื่นนมได้กี่วัน
- 12) พรุ่งนี้เป็นวันศุกร์ เมื่อ 5 วันที่แล้วเป็นวันอะไร
- 13) ครูสั่งการบ้าน 25 ข้อ นกทำได้ถึงข้อ 9 แต่ข้อที่ 9 นกยังไม่เสร็จ นกต้องทำการบ้านอีกกี่ข้อจึงจะเสร็จ
- 14) ก้อยมีเงินมากกว่าแก้ว 4 บาท ถ้าแก้วให้เงินก้อยอีก 5 บาท ก้อยจะมีเงินมากกว่าแก้วกี่บาท
- 15) อ้มมีขนม 20 ห่อ นำไปแบ่งให้เด็ก 15 คน คนละ 1 ห่อ อ้มเหลือขนมกี่ห่อ
- 16)  $\square - 40 = 35 + 27$
- 17) ลัดดามีน้ำส้ม 12 แก้ว ซื้อมาเพิ่มอีกจำนวนหนึ่ง หลังจากนั้นดื่มไป 4 แก้วแล้วยังเหลือน้ำส้มอีก 25 แก้ว ลัดดาซื้อน้ำส้มมาเพิ่มกี่แก้ว



## การแข่งขันคณิตศาสตร์ชิงแชมป์ประเทศไทย

วันที่ 6 เมษายน 2560 ณ ห้อง PAVILLION HALL 2 ชั้น 2 ดรีมเวสต์ รังสิต - นครนายก

### ข้อสอบวิชาคณิตศาสตร์ ระดับชั้นประถมศึกษาปีที่ 1

- 18) เวลา 7.30 น. ถึงเวลา 12.30 น. เป็นระยะเวลากี่ชั่วโมง
- 19) ธนบัตรใบละ 50 บาท จำนวน 2 ใบ แลกเป็นเหรียญห้าได้ทั้งหมดกี่เหรียญ
- 20) พ่อมีอายุ 42 ปี ซึ่งมากกว่าอายุของแม่อยู่ 4 ปี พ่อและแม่มีอายุรวมกันกี่ปี
- 21) สวนสัตว์แห่งหนึ่ง มีช้างและเสือรวมกัน 42 ตัว มีช้างมากกว่าเสืออยู่ 8 ตัว มีเสือกี่ตัว
- 22) จงหาผลต่างของ A และ B  
เมื่อ  $A = (50 \div 10) + 13$   
และ  $58 - 32 = B$
- 23) เหรียญสิบบาท เป็นรูปทรงเรขาคณิตชนิดใด
- 24) นิคซื้อรองเท้าแต่ละราคาคู่ละ 49 บาท คนขายลดราคาให้คู่ละ 7 บาท ถ้านิคซื้อรองเท้า 3 คู่ คิดเป็นเงินกี่บาท



## การแข่งขันคณิตศาสตร์ชิงแชมป์ประเทศไทย

วันที่ 6 เมษายน 2560 ณ ห้อง PAVILLION HALL 2 ชั้น 2 ดรีมเวสต์ รังสิต - นครนายก

### ข้อสอบวิชาคณิตศาสตร์ ระดับชั้นประถมศึกษาปีที่ 1

25)  $1 + 2 + 3 + 4 + 5 = 11 + \square$

26) เชือกเส้นหนึ่งยาว 50 เซนติเมตร นำไปวางต่อกับเชือกอีกเส้นหนึ่งซึ่งยาว 34 เซนติเมตร จากนั้นตัดไปใช้ 42 เซนติเมตร จะเหลือเชือกยาวกี่เซนติเมตร

27)  $\square - 5 = 8 + 7$

28) 5 เท่าของ 4 มากกว่า 8 อยู่เท่าใด

29) หน้อยซื้อโดนัท 22 บาท น้ำดื่ม 14 บาท แล้วยังเหลือเงินอีก 17 บาท เดิมหน้อยมีเงินกี่บาท

30) ธนบัตรใบละ 20 บาท จำนวน 4 ใบ แลกเป็นเหรียญสองบาทได้ทั้งหมดกี่เหรียญ

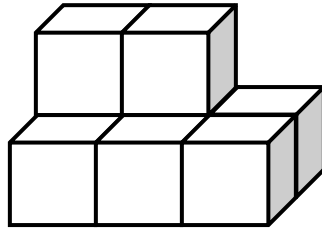


# การแข่งขันคณิตศาสตร์ชิงแชมป์ประเทศไทย

วันที่ 6 เมษายน 2560 ณ ห้อง PAVILLION HALL 2 ชั้น 2 ดรีมเวสต์ รัชสิด - นครนายก

## ข้อสอบวิชาคณิตศาสตร์ ระดับชั้นประถมศึกษาปีที่ 1

31) จากรูป มีบล็อกทั้งหมดกี่อัน

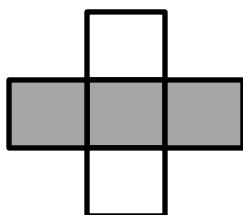


32) มีโต๊ะ 10 ตัว ซึ่งน้อยกว่าเก้าอี้อยู่ 20 ตัว นำเก้าอี้ไปวางรอบโต๊ะแต่ละตัวจำนวนเท่าๆกัน โต๊ะแต่ละตัวจะมีเก้าอี้วางรอบกี่ตัว

33) ตอนเช้านี้มขามะม่วงราคาผลละ 5 บาท ได้เงิน 60 บาท ตอนบ่ายขายมะม่วงได้อีก 18 ผล ทั้งวันนี้มขามะม่วงไปทั้งหมดกี่ผล

34)  $35 + (\square + 14) = 77$

35) รูปที่เรเงาเขียนเป็นเศษส่วนได้อย่างไร





# การแข่งขันคณิตศาสตร์ชิงแชมป์ประเทศไทย

วันที่ 6 เมษายน 2560 ณ ห้อง PAVILLION HALL 2 ชั้น 2 ดรีมเวสต์ รังสิต - นครนายก

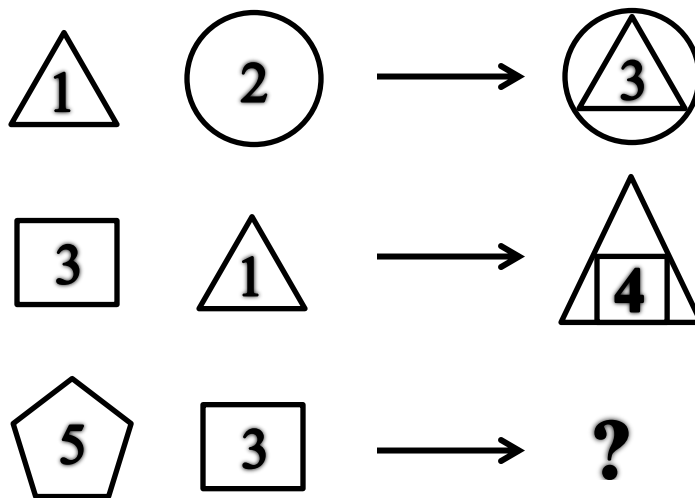
## ข้อสอบวิชาคณิตศาสตร์ ระดับชั้นประถมศึกษาปีที่ 1

36) 3 เดือนสุดท้ายของปี มีทั้งหมดกี่วัน

37) จำนวนที่มากที่สุด 2 หลักและเป็นเลขคู่ คือจำนวนใด

38)  $48 \div \square = 43 - 37$

39) ภาพที่หายไปเป็นภาพใด



40) หนึ่งกับนุ้ยมีเงินรวมกัน 30 บาท หนึ่งมีเงินน้อยกว่านุ้ย 6 บาท นุ้ยมีเงินกี่บาท